

Approche du nombre et calcul

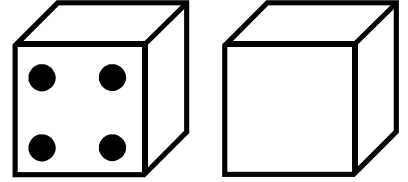
Compte jusqu'à 10

«Compte les cases et dessine les dés qui ont pu sortir.»

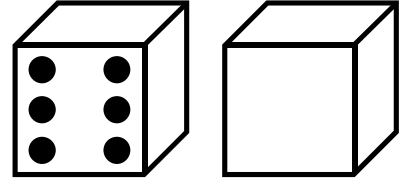
- Utiliser la suite des nombres connus.
- Calculer une somme.
- * Comprendre et exécuter une consigne.



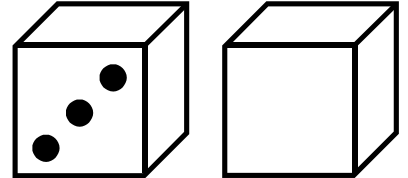
★							○			
---	--	--	--	--	--	--	---	--	--	--



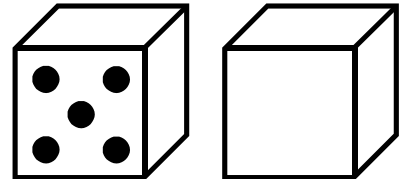
★									○	
---	--	--	--	--	--	--	--	--	---	--



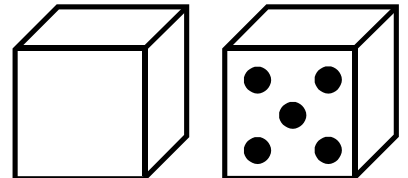
★							○			
---	--	--	--	--	--	--	---	--	--	--



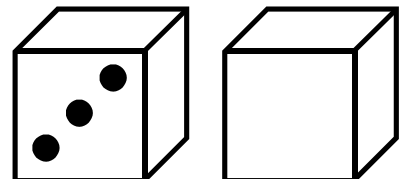
★							○			
---	--	--	--	--	--	--	---	--	--	--



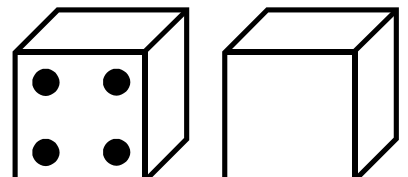
★									○	
---	--	--	--	--	--	--	--	--	---	--



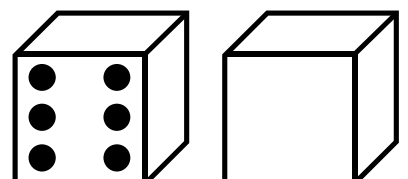
★				○						
---	--	--	--	---	--	--	--	--	--	--



★									○	
---	--	--	--	--	--	--	--	--	---	--



★								○		
---	--	--	--	--	--	--	--	---	--	--



★							○			
---	--	--	--	--	--	--	---	--	--	--

